

# 2. Sınıf Zaman Ölçme Problemleri – Sayfa 1

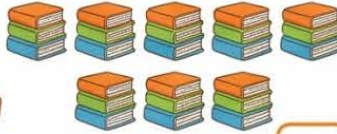
1

Elif 10:15'te parka gitti,  
45 dk oynadı, saat kaçta  
eve döndü?



2

Günde yarım saat okuyan  
Metin, 6 günde kaç saat  
okur?



.....

3

Film 15:45'te bitti, 1 saat  
sürdü. Başladığında  
saat kaçtı?



4

Gökhan 08:30'da derse  
başladı, ders 2 saat sürdü.  
Kaçta okul biter?



5

Canan yemeği 12:30'da pişirdi,  
15 dk hazırlık, 30 dk pişme.  
Hazır olduğunda saat kaç?



6

Tenis maçı 17:00'da başladı,  
2 saat sürdü.  
Saat kaçta bitti?



7

Günde 3 saat oyun oynayan  
çocuk, bir haftada kaç saat  
oyun oynar?



8

Oyun 16:30'da bitti, yarım  
saat önce başladı. Başladığında  
saat kaçtı?



9

Sınav 09:00'da başladı,  
45 dk sürdü. Kaçta bitti?



10

Mert 14:30'da bisiklete  
bindi, yarım saat sürdü.  
Kaçta bıraktı?



11

Saat 11:30'do ders bitti,  
2 saat sürdü. Kaçta  
başladı?



12

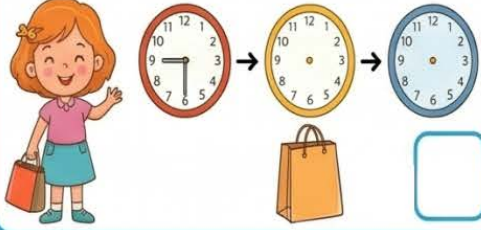
Çeyrek saat kitap okuyan  
çocuk, 4 günde kaç saat kitap  
okumuş olur?



## 2. Sınıf Zaman Ölçme Problemleri

1

Selin 09:30'da evden çıktı, yarım saat yürüdü, 1 saat alışveriş yaptı. İşi bittiğinde saat kaç?



2

Hakan günde yarım saat spor yapıyor, 4 günde kaç saat spor yapar?



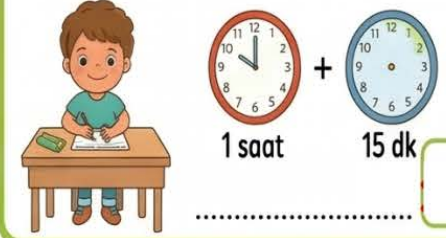
3

Film 13:15'te başladı, 1 saat 15 dk sürdü. Bittiğinde saat kaç?



4

Murat 10:00'da ders başladı, her 1 saatte 15 dk mola veriyor, 2 saat ders 1 mola sonrası saat kaç?



5

Annem keki 11:00'de fırına verdi. Çeyrek saat hazırlık, yarım saat pişme süresi, hazır olduğunda saat kaç?



6

Sınav 08:45'te başladı, 60 dakika (1 saat) sürdü. Sınav kaçta biter?




7

Günde 2 saat oyun oynayan çocuk, bir hottoda kaç saat oyun oynar?



8

Babam 17:30'do eve geldi, yarım saat dinlendi, 1 saat Saat kaç oldu?



9

Dükkan sabah 08:00'de açıldı, akşam 20:00'de kapandı. Kaç saat açık kaldı?



10

Otobüs 09:15'te yola çıktı, 11:15'te mola verdi. Molaya kadar kaç saat gitti?



11

Toplantı 14:30'da başladı, 16:00'da bitti. Toplantı ne kadar sürdü?



12

Çeyrek saat kitap okuyan öğrenci, 4 günde kaç saat kitap okumuş olur?

